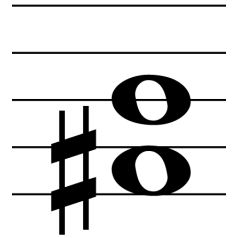


Intervalle 1

klein / groß / rein



1.1) Benenne folgende Intervalle!

Bilde folgende Intervalle!

...
 g7 k3 g3 r5 k2

1.2) Bilde folgende Intervalle!

Benenne folgende Intervalle!

k3 r4 g6 r5 k6

1.3) Benenne folgende Intervalle!

Bilde folgende Intervalle!

...
 k6 g7 r4 g3 g6

1.4) Bilde folgende Intervalle!

Benenne folgende Intervalle!

k3 k6 g2 g3 r4

1.5) Benenne folgende Intervalle!

Bilde folgende Intervalle!

...
 k7 r4 g7 g6 g3

1.6) Bilde folgende Intervalle!

Benenne folgende Intervalle!

r5 k6 k2 k3 r1

1.7) Benenne folgende Intervalle!

Bilde folgende Intervalle!

...
 k6 g2 k7 k6 g3

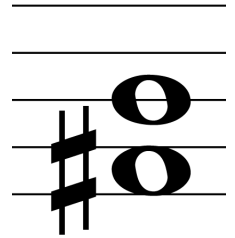
1.8) Bilde folgende Intervalle!

Benenne folgende Intervalle!

k3 k6 g2 k7 r4

Intervalle 2

übermäßig / vermindert



2.1) Benenne folgende Intervalle!

Bilde folgende Intervalle!

... .. v3 g6 v6 r4 g3

2.2) Bilde folgende Intervalle!

Benenne folgende Intervalle!

k7 r4 v7 ü2 k3

2.3) Benenne folgende Intervalle!

Bilde folgende Intervalle!

... .. v7 ü4 ü2 g3 r4

2.4) Bilde folgende Intervalle!

Benenne folgende Intervalle!

v2 k7 g3 v5 g6

2.5) Benenne folgende Intervalle!

Bilde folgende Intervalle!

... .. r5 v6 g6 ü3 ü5

2.6) Bilde folgende Intervalle!

Benenne folgende Intervalle!

ü8 g7 r4 k7 v7

2.7) Benenne folgende Intervalle!

Bilde folgende Intervalle!

... .. k2 v3 ü5 k3 g7

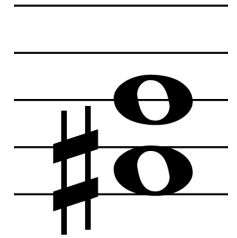
2.8) Bilde folgende Intervalle!

Benenne folgende Intervalle!

g7 v5 k3 r4 g6

Intervalle 3

mehr ü/v



3.1) Benenne folgende Intervalle!

Bilde folgende Intervalle!

... .. k6 v5 k3 k2 ü4

3.2) Bilde folgende Intervalle!

Benenne folgende Intervalle!

g3 ü4 g6 v3 ü6

3.3) Benenne folgende Intervalle!

Bilde folgende Intervalle!

... .. v8 v3 g7 k3 r5

3.4) Bilde folgende Intervalle!

Benenne folgende Intervalle!

v4 ü5 ü3 r5 k7

3.5) Benenne folgende Intervalle!

Bilde folgende Intervalle!

... .. r5 k6 ü3 v5 k7

3.6) Bilde folgende Intervalle!

Benenne folgende Intervalle!

k3 ü8 v7 k6 k3

3.7) Benenne folgende Intervalle!

Bilde folgende Intervalle!

... .. g7 k2 v3 g3 ü6

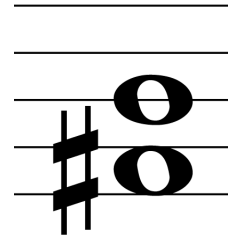
3.8) Bilde folgende Intervalle!

Benenne folgende Intervalle!

ü4 g7 r4 g6 k3

Intervalle 4

mehr Vorzeichen



4.1) Benenne folgende Intervalle!

Bilde folgende Intervalle!

... ü5 g6 r4 k6 v7

4.2) Bilde folgende Intervalle!

Benenne folgende Intervalle!

k3 ü6 g7 v2 r5

4.3) Benenne folgende Intervalle!

Bilde folgende Intervalle!

... k6 ü5 g7 k2 k3

4.4) Bilde folgende Intervalle!

Benenne folgende Intervalle!

k3 ü7 g6 g2 v5

4.5) Benenne folgende Intervalle!

Bilde folgende Intervalle!

... ü6 k7 r4 v4 g3

4.6) Bilde folgende Intervalle!

Benenne folgende Intervalle!

g7 ü5 k6 k2 v3

4.7) Benenne folgende Intervalle!

Bilde folgende Intervalle!

... ü7 v6 g6 k3 r4

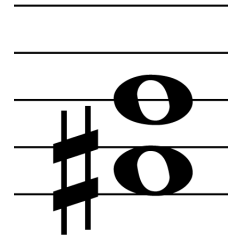
4.8) Bilde folgende Intervalle!

Benenne folgende Intervalle!

ü7 k6 g3 g2 v5

Intervalle 5

bis Duodezime



5.1) Benenne folgende Intervalle!

Bilde folgende Intervalle!

... g3 g7 v5 ü6 g2

5.2) Bilde folgende Intervalle!

Benenne folgende Intervalle!

g6 g10 v2 k7 g3

5.3) Benenne folgende Intervalle!

Bilde folgende Intervalle!

... k3 ü8 k6 v2 ü3

5.4) Bilde folgende Intervalle!

Benenne folgende Intervalle!

v7 g3 g9 k6 ü5

5.5) Benenne folgende Intervalle!

Bilde folgende Intervalle!

... k7 v4 ü3 g9 g6

5.6) Bilde folgende Intervalle!

Benenne folgende Intervalle!

ü3 g7 k6 ü2 v6

5.7) Benenne folgende Intervalle!

Bilde folgende Intervalle!

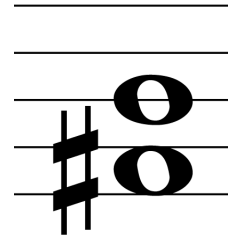
... v2 r5 k9 g6 ü3

5.8) Bilde folgende Intervalle!

Benenne folgende Intervalle!

k7 ü6 v5 k10 g3

Intervalle 6



6.1) Benenne folgende Intervalle!

Bilde folgende Intervalle!

... k3 g7 v5 ü6 g2

6.2) Bilde folgende Intervalle!

Benenne folgende Intervalle!

g6 g10 v2 g7 ü3

6.3) Benenne folgende Intervalle!

Bilde folgende Intervalle!

... k3 ü8 g6 v2 ü3

6.4) Bilde folgende Intervalle!

Benenne folgende Intervalle!

v7 g3 g9 k6 ü5

6.5) Benenne folgende Intervalle!

Bilde folgende Intervalle!

... k7 v4 ü3 g9 g6

6.6) Bilde folgende Intervalle!

Benenne folgende Intervalle!

ü3 g7 k6 ü2 v6

6.7) Benenne folgende Intervalle!

Bilde folgende Intervalle!

... v2 r5 k9 g6 ü3

6.8) Bilde folgende Intervalle!

Benenne folgende Intervalle!

k7 ü6 v5 k10 g3